

# 토핑 듬뿍 떡볶이 요리하기

월 일 요일

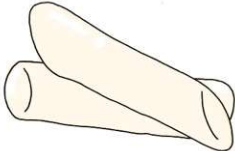



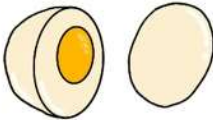



반 번

이름

◆ 떡볶이집 사장님이 되어볼까요? 손님이 좋아하는 토핑에 동그라미 하고 주문서를 적어 주세요.



비례식이 바르게 적힌 토핑이 제가 좋아하는 거예요!

		
떡 추가 $7 : 2 = 21 : 8$	어묵 추가 $25 : 30 = 5 : 6$	순대 $3 : 5 = 12 : 20$
		
새우튀김 $0.4 : 0.9 = 4 : 9$	계란 $15 : 6 = 5 : 3$	치즈 $2.3 : 1.8 = 23 : 18$
		
소시지 $\frac{2}{5} : \frac{1}{3} = 6 : 5$	김밥 $\frac{1}{2} : \frac{2}{3} = 4 : 3$	

## <주문서>

- 떡볶이 1인분
- 토핑 추가 : (            ), (            ), (            ), (            ), (            )

## 같이놀이 tip

올바른 비례식을 찾기 위해서는 전항과 후항에 0이 아닌 수를 곱하거나 나누어 보거나, 외항과 내항의 곱이 같은지 확인해 보면 돼요.

# 토핑 듬뿍 떡볶이 요리하기

월 일 요일




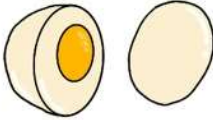



반 번

이름

◆ 떡볶이집 사장님이 되어볼까요? 손님이 좋아하는 토핑에 동그라미 하고 주문서를 적어 주세요.



비례식이 바르게 적힌 토핑이 제가 좋아하는 거예요!

		
떡 추가 $7 : 2 = 21 : 8$	어묵 추가 $25 : 30 = 5 : 6$	순대 $3 : 5 = 12 : 20$
		
새우튀김 $0.4 : 0.9 = 4 : 9$	계란 $15 : 6 = 5 : 3$	치즈 $2.3 : 1.8 = 23 : 18$
		
소시지 $\frac{2}{5} : \frac{1}{3} = 6 : 5$	김밥 $\frac{1}{2} : \frac{2}{3} = 4 : 3$	

## <주문서>

- 떡볶이 1인분
- 토핑 추가 : ( 어묵 추가 ), ( 순대 ), ( 새우튀김 ), ( 치즈 ), ( 소시지 )

## 같이놀이 tip

올바른 비례식을 찾기 위해서는 전항과 후항에 0이 아닌 수를 곱하거나 나누어 보거나, 외항과 내항의 곱이 같은지 확인해 보면 돼요.